


Mathematik • 1. Klasse

DUDEN



Dorothee Raab

Mein

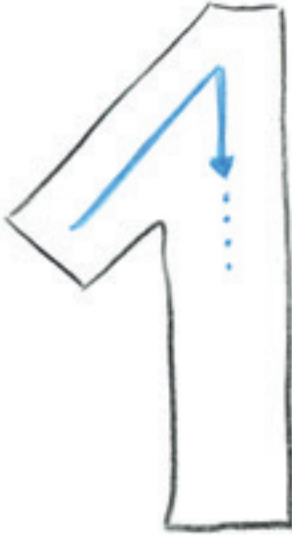
1. Klasse

Matheblock

mit Rabe Linus



Schreibe in die große 1 viele Male eine 1.




In welcher Eistüte ist nur eine Kugel Eis?  
Male die richtige Tüte an.



# Zählen



Findest du alle Würfel, auf denen ein Würfelpunkt ist?  
Male die richtigen Würfel bunt an.



Übe hier die 1.





Schreibe in die große **2** viele Male eine **2**.  
Achte auf die richtige Schreibrichtung.



Übe hier die **2**.

						
--	--	--	--	--	--	--

						
--	--	--	--	--	--	--



Schreibe in die große **3** viele Male eine **3**.



Übe hier die **3**.

						
--	---	--	--	--	--	--

# Minusrechnen



Kannst du die Aufgaben lösen?



$16 - 8 = 8$

$16 - 6 - 2 = 8$



$14 - 7 =$

$14 - 4 - 3 =$



$13 - 6 =$

$13 - 3 - 3 =$



$15 - 9 =$

$15 - 5 - 4 =$

Ich rechne in einem Schritt:

$13 - 4 = 9$

Ich rechne schrittweise:

$13 - 3 - 1 = 9$





# Minusrechnen



Zu jeder Katze gehört ein Ball.

Male die Katzen und ihren Ball in der gleichen Farbe an.

4

$17 - 9$

$13 - 7$

$15 - 8$

5

8

$12 - 8$

9

$14 - 9$

7

$16 - 7$

6

3

$12 - 9$