

Mathematik
1. Klasse

DUDEN

Mein
**RUCK-
ZUCK-**
Übungsblock

1000
♥



**Grund-
rechenarten**
1. Klasse

8-3

6+7

6

5

8

4-2

6

9

7

5+9

3

4

7

3

Schreib hier
deinen Namen hin.



Hallo

beim Rechnen ist es wie im Sport: Je mehr du trainierst, desto besser wirst du. Die Aufgaben in diesem Block helfen dir, das, was du in der 1. Klasse lernst, zu wiederholen und zu üben. Du wirst merken, dass dir das Rechnen immer leichter fällt. Ruckzuck wirst du ein richtiger Rechenprofi!

Hier ein paar Trainingstipps:

Bearbeite die Übungen und kontrolliere anschließend deine Ergebnisse anhand der Lösungen auf der Rückseite des Blattes. Dort findest du auch Tipps, die dir beim Lösen der Aufgaben helfen. Notiere immer unten auf der Lösungsseite, wie viele Punkte du erreicht hast.

Damit du den Überblick behältst, findest du hinten im Block eine Auflistung aller Aufgaben. Hier kannst du deine Trainingsergebnisse eintragen und dein Endergebnis ermitteln,

nachdem du alle Aufgaben bearbeitet hast. Kreuze in der Übersicht auch an, ob die Aufgaben für dich eher leicht 😊 oder schwer 😞 waren. In der anschließenden Auswertung kannst du nachlesen, wie du abgeschnitten hast. Wenn du den ganzen Block geschafft und deine Ergebnisse ausgewertet hast, wartet noch eine spannende Knobelaufgabe auf dich!



Viel Spaß und Erfolg!

Lösungen zu „Streng geheim!“:
5, 12, 5, 6, 1, 14, 20 (Elefant); 8, 21, 14, 4 (Hund)
20, 9, 7, 5, 18 (Tiger); 19, 3, 8, 1, 6 (Schaf)
Du bist ein toller Detektiv!

Üben 1


Spure die Zahlen nach und schreibe dahinter.



.....



.....



.....



.....



.....



.....



.....




.....



.....



.....



Zahlen bis 10

Zahlen schreiben

Üben 2 Zähle und schreibe.




3



Zahlen bis 10

Zahlen aufschreiben

Üben ³ Male die Ostereier an:



3 Ostereier grün. 

4 Ostereier gelb. 

5 Ostereier rot. 

2 Ostereier blau. 

Wie viele Ostereier bleiben weiß?



Zahlen bis 10

Richtig zählen

Üben 4 Ergänze und male.



2	<input type="text" value=" "/>	<table border="1"><tr><td>●</td><td>●</td><td></td><td></td><td></td><td></td><td></td><td></td><td></td><td></td></tr></table>	●	●								
●	●											
7	<input type="text"/>	<table border="1"><tr><td></td><td></td><td></td><td></td><td></td><td></td><td></td><td></td><td></td><td></td></tr></table>										
5	<input type="text"/>	<table border="1"><tr><td></td><td></td><td></td><td></td><td></td><td></td><td></td><td></td><td></td><td></td></tr></table>										
1	<input type="text"/>	<table border="1"><tr><td></td><td></td><td></td><td></td><td></td><td></td><td></td><td></td><td></td><td></td></tr></table>										
10	<input type="text"/>	<table border="1"><tr><td></td><td></td><td></td><td></td><td></td><td></td><td></td><td></td><td></td><td></td></tr></table>										
0	<input type="text"/>	<table border="1"><tr><td></td><td></td><td></td><td></td><td></td><td></td><td></td><td></td><td></td><td></td></tr></table>										
4	<input type="text"/>	<table border="1"><tr><td></td><td></td><td></td><td></td><td></td><td></td><td></td><td></td><td></td><td></td></tr></table>										
8	<input type="text"/>	<table border="1"><tr><td></td><td></td><td></td><td></td><td></td><td></td><td></td><td></td><td></td><td></td></tr></table>										



Zahlen bis 10

Zahlen darstellen

Üben 5 Zähle und schreibe die Zahlen.

Setze ein: <, = oder >.



4

.....



8

.....

<



.....



.....



.....



.....



.....



.....



Zahlen bis 10

Zählen und vergleichen

Üben ²³ Finde heraus, welches Bild für welche Zahl steht, und löse alle Aufgaben.

$$\text{Maus} + 7 = 10$$

$$\text{Maus} = \dots\dots 3 \dots\dots$$

$$\text{Eule} + 1 = 8$$

$$\text{Eule} = \dots\dots$$

$$\text{Schaf} + 3 = 7$$

$$\text{Schaf} = \dots\dots$$

$$\text{Fisch} + 11 = 19$$

$$\text{Fisch} = \dots\dots$$

$$\text{Pferd} + 5 = 10$$

$$\text{Pferd} = \dots\dots$$

$$\text{Maus} + \text{Pferd} = \dots\dots$$

$$\text{Eule} + \text{Schaf} = \dots\dots$$

$$\text{Fisch} + \text{Fisch} = \dots\dots$$

$$\text{Pferd} + \text{Eule} = \dots\dots$$

$$\text{Fisch} + \text{Schaf} = \dots\dots$$



Üben 59 Fülle die Tabelle aus.



Vorgänger		Nachfolger
	17	
	98	
		77
11		
	22	
54		
		69
	70	
34		
80		
		100
	77	
	41	
		40



Zahlen bis 100

Vorgänger und Nachfolger

Üben ⁶⁰ Welche Aufgaben gehören zusammen?

Male in der gleichen Farbe an und rechne.

$4 + 5 = \dots\dots$

$6 + 3 = \dots\dots$

$1 + 4 = \dots\dots$

$80 + 10 = \dots\dots$

$20 + 50 = \dots\dots$

$60 + 30 = \dots\dots$

$90 + 10 = \dots\dots$

$30 + 40 = \dots\dots$

$2 + 5 = \dots\dots$


$3 + 4 = \dots\dots$

$10 + 40 = \dots\dots$

$8 + 1 = \dots\dots$

$9 + 1 = \dots\dots$

$40 + 50 = \dots\dots$



Zahlen bis 100

Mit Zehnerzahlen rechnen